

Les coins lumineux d'Athènes
Φωτεινές γωνιές της Αθήνας

Jeux et activités - Réponses



La colline du Lycabette

I. Répondez aux questions :

1. De quelle couleur était les deux oiseaux qui prédirent que les filles de Cécrops ouvriraient la boîte ?

- a. noire
- b. verte
- c. bleue

2. Qu'est-ce qu'il y a dans la chaîne du Pentélique ?

- a. l'église Haghios Georgios
- b. un cinéma
- c. l'église Haghios Georgios et quelques cafés

3. Qu'est-ce qu'il y a à une centaine de mètres au N.E. du Lycabette ?

- a. le cinéma du Lycabette
- b. le théâtre du Lycabette
- c. la place du Lycabette

II. Cochez la bonne réponse :

1. Quelle déesse a lâché le rocher du Lycabette ?

- a. Athéna
- b. Aphrodite
- c. Héra

2. Pourquoi a-t-elle lâché ce rocher ?

- a. de surprise
- b. de colère
- c. de fatigue

3. L'église sur la colline du Lycabette s'appelle :

- a. Haghios Georgios
- b. Haghios Nikolaos
- c. Haghios Ioannis

4. Le théâtre du Lycabette est blotti :

- a. au N.O.
- b. au S.O.
- c. au N.E.



La colline du Lycabette

III. Faites correspondre :

1. Lycabette

2. Athéna

3. Théâtre du Lycabette

4. Haghios Georgios

5. Filles de Cécrops

6. Oiseaux

5	a
4	b
6	c
2	d
3	e
1	f

a. la boîte

b. église byzantine

c. noirs

d. déesse

e. N.E. de la colline

f. colline d'Attique

IV. Trouvez les mots :

1. Lycabette

2. mythologie

3. rocher

4. Pentélique

5. temple

6. légende

7. déese

8. oiseax

9. boîte

10. colère



I. Choisissez la bonne réponse :

1. *L'Acropole, orgueil et emblème international de :*

- a. la France
- b. la Grèce**
- c. l'Italie

2. *Le Parthénon est un des plus célèbres ... de l'Acropole.*

- a. temples**
- b. fortifications
- c. forteresses

3. *A quelle déesse les trois temples de l'Acropole sont-ils dédiés ?*

- a. Aphrodite
- b. Athéna**
- c. Héra

4. *Le sculpteur du Parthénon était :*

- a. Ictinos
- b. Callicratès
- c. Phidias**

5. *Le temple est d'ordre :*

- a. dorique**
- b. ionique
- c. corinthien

6. *On suppose que l'architecte de l'Erechtéion est :*

- a. Ictinos
- b. Mnésiclès**
- c. Hérode Atticus

7. *Seule une des Caryatides est conservée au :*

- a. Louvre
- b. British Museum**
- c. musée de l'Acropole

8. *Le temple d'Athéna Niké a été achevé :*

- a. en 448 av. J.-C.**
- b. en 490 av. J.-C.
- c. en 480 av. J.-C.



II. Trouvez la phrase correcte :

1. *Il n'y a plus de Caryatides à l'Acropole.*
2. *Les Caryatides originales se trouvent à l'Acropole et leurs moulages sont conservés au musée de l'Acropole.*
3. Les Caryatides de l'Erechtéion sont conservées au musée de l'Acropole et ont été remplacées par des moulages.

III. Complétez les phrases :

1. Le temple d'Athéna Niké a été construit en 443 av. J.-C.
2. Le Parthénon est un chef-d'oeuvre de l'architecture grecque.
3. Le Parthénon, l'Erechtéion et Athéna Niké sont les trois temples de l'Acropole.



L'Aréopage et la colline de la Pnyx

I. Complétez :

- a. L'Aréopage est situé au N.O. de l' Acropole.
- b. C'est une colline rocheuse.
- c. Au Ve siècle sa fonction fut limitée au jugement de meurtres.
- d. Les sièges de l'accusé et de l'accusateur étaient connus aussi sous le nom, « pierre de l'Outrage » et « pierre du Ressentiment »

II. Choisissez :

La colline de la Pnyx est située :

1. entre la colline des Nymphes et celle des Muses
2. rue Tripodon

L'utilisation de la colline de la Pnyx a commencé :

1. à l'époque moderne
2. à l'époque classique

Là se tenaient :

1. les fonctions administratives
2. les réunions de l'Assemblée du Peuple.



L'Ancienne Agora, le Théséion et la Stoa d'Attale

I. Choisissez la bonne réponse :

1. Combien d'étages a la Stoa d'Attale ?

- a. deux
- b. trois
- c. quatre

2. Quand s'est tenue à la Stoa d'Attale la réunion des 27 pays membres de l'E.U. ?

- a. le 15 avril 2003
- b. le 17 avril 2003
- c. le 20 avril 2003

3. Où se trouve la Stoa d'Attale ?

- a. à l'est de l'ancienne Agora
- b. à l'ouest de l'ancienne Agora

4. De quand date l'ancienne Agora ?


- a. du 4e siècle av. J.-C.
- b. du 6e siècle av. J.-C.
- c. du 7e siècle av. J.-C.

5. Qu'est-ce que le Théséion ?

- a. un temple ancien
- b. une stoa
- c. un autel

6. A qui a-t-il été dédié ?

- a. à Thésée
- b. à Héphaïstos
- c. à tous les deux



I. Cochez la bonne réponse

1. *Quand est-ce que Platon a fondé son Académie ?*

- a. en 375 av. J.-C.
- b. en 380 av. J.-C.
- c. en 387 av. J.-C.**

2. *A qui l'Académie doit son nom :*

- a. à Platon
- b. à Académios**
- c. aux citoyens d'Athènes

3. *L'Académie exista jusqu'en :*

- a. 529 av. J.-C.
- b. 387 av. J.-C.
- c. 529 ap. J.-C.**

4. *Aujourd'hui il en reste :*

- a. la plus grande partie
- b. quelques ruines**
- c. rien

II. Faites correspondre :

1. Platon

2. bois

3. Akadémos

4. Justinien

5. Athènes

6. Académie

4

a

5

b

2

c

1

d

3

e

6

f

a. empereur de Byzance

b. capitale de la philosophie

c. sacré

d. philosophe du 4e siècle

e. héros

f. établissement d'enseignement de la philosophie



L'Agora Romaine, la bibliothèque d'Hadrien et le quartier des Aerides



I. Choisissez la bonne réponse :

1. *L'Agora romaine était utilisée à l'époque :*


- a. ancienne
- b. romaine**
- c. byzantine

2. *Elle était entourée d'un péristyle de cent colonnes*

- a. doriennes
- b. corinthiennes
- c. ioniennes**

3. *Sa construction date du :*

- a. 1er siècle
- b. 1er siècle av. J.-C.**
- c. IIe siècle



4. *La bibliothèque d'Hadrien était entourée d'un péristyle de ...colonnes :*

- a. deux cent
- b. cent**
- c. cinquante

5. *Le quartier des Aerides est appelé également :*

- a. Holologio d'Andronicos Kyrhestès**
- b. Tour d'Andronicos Kyrhestès
- c. Quartier des marchands athéniens

6. *Cet édifice complexe possédait un mécanisme permettant de :*

- a. régler l'écoulement de l'eau dans la tour**
- b. faire des calculs économiques pour les marchands
- c. indiquer la direction du vent

Le temple de Zeus Olympien et la porte d'Hadrien

I. Chasse l'intrus

La Porte d'Hadrien • la bibliothèque d'Hadrien • l'aqueduc d'Adrien • le Temple de Zeus Olympien

II. Complétez les phrases :

1. Le temple de Zeus est connu aussi sous le nom des colonnes de Zeus Olympien.
2. Sa construction a commencé à l'époque du tyran Pisistrate.
3. Les Athéniens adoraient Hadrien comme un dieu parce qu'il fit beaucoup de travaux dans leur ville.
4. Aujourd'hui le temple de Zeus Olympien ne conserve que 15 colonnes intactes.

III. Choisissez la bonne réponse :

Le temple de Zeus Olympien a été achevée grâce à :

- a. Hadrien
- b. Pisistrate
- c. Hérode Atticus



I. Choisissez la bonne réponse :

1. *Le stade Panathinaïko est blotti contre le flanc de la colline :*

- a. **d'Ardettos**
- b. de la Pnyx
- c. des Nymphes

2. *Il a été construit en :*

- a. 303 av.-J.C.
- b. **330 av.-J.C.**
- c. 132 av.-J.C.

3. *Il a été rénové par :*

- a. Y. Averoff
- b. Adrianos
- c. **Hérode Atticus**

4. *Il a :*

- a. **60.000 sièges**
- b. 600.000 sièges
- c. 6.000 sièges

5. *Les premiers Jeux Olympiques y ont été accueillis en :*

- a. 1895
- b. **1896**
- c. 1890



II. Répondez aux questions :

1. *Où se trouve le stade Panathinaïko ?*

Il se trouve blotti contre le flanc de la colline d'Ardettos, face au nord-ouest.

2. *En quelle date le stade Panathinaïko a été construit ?*

Il a été construit en 330 av. J.-C.

3. *Pour quelle fête a-t-il été construit ?*

Il été construit pour les Panathénées.

4. *Par qui a-t-il été rénové ?*

Il été rénové par Hérode Atticus.

5. *Quand a-t-il trouvé sa forme actuelle ?*

Il trouvé sa forme actuelle en 1895.

Le monument de Philopappos et L'Aréopage

I. Complétez :

F : Son **étonnante façade** de 10m protégeait

U : **une chambre funéraire**.

N : Le **nom** de la colline des Muses est

E : **également** colline de Philopappos.

R : Philopappos était le **consul romain** d'Athènes.

A : Le monument est situé au **S.O.** de l' **Acropole**.

I : Il a été construit en 114-116

R : en l'honneur du **romain** Gaios Antiochos Philopappos.

E : L'**été** le site accueille le spectacle "Son et Lumière".

II. Vrai ou Faux :

a. Le monument de Philopappos a été construit en 151 ap. J.-C. **Faux**

b. Son **étonnante façade** est haute de 20m. **Faux**

c. L'**été** le site accueille le spectacle "Son et Lumière". **Vrai**

III. Faites correspondre :

1. Pierre du Ressentiment

2. Pierre de l'Outrage

3. La colline des Muses

4. La colline de l'Aréopage

4	a
3	b
2	c
1	d

a. tribunal

b. colline de Philopappos

c. le siège de l'accusé

d. le siège de l'accusateur



Le versant sud de l'Acropole

I. Choisissez la bonne réponse :

1. L'Odéon d'Hérode Atticus est situé à l'extrémité :

- a. ouest du portique d'Eumène
- b. sud du portique d'Eumène
- c. nord du portique d'Eumène

2. Il a été construit pour honorer la mémoire de :

- a. son frère Constantin
- b. son épouse Regilla
- c. son épouse Catherine

3. L'Odéon présente des manifestations :

- a. de danses
- b. de théâtre
- c. de musique

4. Le Théâtre de Dionysos a été construit :

- a. au VIe siècle av. J.-C.
- b. au Ve siècle av. J.-C.
- c. au IVe siècle av. J.-C.

5. Il a été construit pendant la tyrannie de

- a. Hippias
- b. Aristarque
- c. Pisistrate

6. Ce théâtre est l'un des plus prestigieux :

- a. de l'art baroque
- b. de l'Antiquité
- c. du Moyen Age



II. Faites correspondre :

1. L'Odéon d'Hérode Atticus

2. Le théâtre de Dionysos

2	a
2,1	b
2	c
1	d
2	e
2,1	f
1	g
1	h
2	i

- a. Ve siècle av. J.-C.
- b. manifestations musicales
- c. ancien théâtre
- d. Hérode Atticus
- e. fêtes dionysiaques
- f. aux abords sud de l'Acropole
- g. à l'ouest du portique Eumène
- h. pour honorer la mémoire de Regilla
- i. pendant la tyrannie de Pisistrate



III. Chasse l'intrus

Eschyle • Sophocle • Pisistrate • Euripide • Aristophane

L'Acropole et ses alentours

I. Faites correspondre :

a. Le Parthénon

b. Le temple d'Athéna Niké

c. L'Erechtéion

d. L'Odéon d'Hérode Atticus

e. Le Théâtre de Dionysos

d	1
c	2
b	3
a	4
e	5
e	6
a	7
d	8
c	9
b	10

1. Situé à l'extrémité ouest du portique d'Eumène

2. est célèbre par sa tribune des Caryatides

3. La construction du temple a commencé en 490-480 av.- J.C.

4. a été dessiné par les architectes Ictinos et Callicratès

5. C'est le plus ancien théâtre de l'Antiquité.

6. Tous les chefs-d'oeuvre du répertoire classique y ont été joués.

7. Le temple est d'ordre dorique.

8. a une excellente acoustique.

9. Son architecture est inconnue, mais on suppose que c'est Mnésiclès qui l'a conçu.

10. a été achevée en 448, selon les plans de Callicratès.

II. Chasse l'intrus :

Le Parthénon • Le temple d'Athéna Niké • L'Erechtéion • L'Odéon d'Hérode Atticus

III. Complétez les phrases en employant les mots :

aux abords sud, au N.O., au S.O., en 114-116 ap. J.C., au VIIe siècle av. J.-C., au VI siècle av. J.-C.

a. Le théâtre de Dionysos se trouve aux abords sud de l'Acropole. Il a été construit au VI siècle av. J.-C.

b. L'Aréopage se trouve au N.O. de l'Acropole. Il a été construit au VIIe siècle av. J.-C.

c. Le monument funéraire de Philopappos se trouve au S.O. de l'Acropole. Il a été construit en 114-116 ap. J.C.

III. Dites si c'est vrai ou faux :

Sur l'Acropole il y a :

- | | |
|---|--|
| 1. La colline du Lycabette Faux | 5. Le Temple d'Athéna Niké Vrai |
| 2. Le Parthénon Vrai | 6. L'Odéon d'Hérode Atticus Faux |
| 3. l'église Haghii Théodori Faux | 7. l'église Haghios Elefterios Faux |
| 4. l'église Kapnikarea Faux | 8. l'Erechtéion Vrai |

I. Reconnaissez-vous les églises ?

a. Mettez le nom de l'église qui correspond à la photo.

b. Ecrivez une petite légende pour chaque église.



Kapnikarea



Haghii Théodori



Kapnikarea



Kapnikarea



Haghios Elefterios



Haghii Théodori

Les trois « temples du savoir »

I. Choisissez la bonne réponse :

1. *Les trois « temples du savoir » sont :*

- a. l'Académie de Platon, l'Université, l'Acropole
- b. Le Parthénon, l'Erechtéion, les Caryatides
- c. l'Académie, l'Université et la Bibliothèque nationale**

2. *Les trois « temples du savoir » ont été conçus par :*

- a. Hérode Atticus
- b. les frères Hansen**
- c. Callicratès

3. *Le constructeur de l'Académie est :*

- a. Theofil Hansen**
- b. Fidias
- c. Mnésiclès

4. *L'Université est l'oeuvre de :*

- a. Theofil Hansen
- b. Leonidas Drossis
- c. Hans Christian Hansen**

5. *Les colonnes de la Bibliothèque nationale sont d'ordre :*

- a. dorique**
- b. ionique
- c. corinthien

6. *Les « temples du savoir » ont été construits :*

- a. avant l'Indépendance
- b. après l'Indépendance**
- c. pendant l'Indépendance

7. *Ils se trouvent dans la rue :*


- a. Panepistimiou**
- b. Akademias
- c. Stadiou



Les trois « temples du savoir »

II. Dites si c'est vrai ou faux :

1. *L'Académie est une réplique en marbre du Parlement de Vienne. Vrai*
2. *L'Université est l'oeuvre de Theofil Hansen. Faux*
3. *La Bibliothèque nationale n'a pas de colonnes. Faux*
4. *L'Académie, l'Université et l'Académie de Platon sont les « trois temples du savoir ». Faux*
5. *Les statues de Socrates et de Platon devant l'Académie sont des oeuvres de Leonidas Drossis. Faux*



III. Trouvez les mots :

A : *Portent des statues d'Apollon et d'Athéna.*

C : *Son constructeur est Theofil Hansen.*

A : *Donne un aspect particulier à la rue.*

D : *Avec ses colonnes doriques est une oeuvre de Theofil Hansen.*

E : *Rue Eleftheriou Vénizélou ou Panepistimiou.*

M : *Les statues sont en marbre.*

I : *Ictinos et Calicrates sont les architectes de l'Acropole.*

E : *L'ensemble des trois « temples du savoir » est formé par l'Académie, l'Université et la Bibliothèque nationale.*

Le Parlement et la tombe du Soldat Inconnu

I. Choisissez la bonne réponse :

1. Le Parlement se trouve sur la place :

- a. Omonia
- b. Syndagma**
- c. Klafthmonos

2. Son architecte est :

- a. Othon
- b. Goertner**
- c. Roc

3. L'ancien Palais royal a été transmis au Parlement en :

- a. 1821
- b. 1836
- c. 1935**

4. La tombe du soldat inconnu est une oeuvre :

- a. d'un architecte inconnu
- b. de K. Demetriadis
- c. des artistes K. Demetriadis et Roc.**

5. La garde devant le tombeau est relevée :

- a. le matin
- b. le soir
- c. toutes les heures**



La place Monastiraki

I. Choisissez la bonne réponse :

1. *La place Monastiraki est :*

- a. **une petite place circulaire**
- b. une grande place circulaire
- c. une petite place carrée

2. *Le nom de la place provient du « petit monastère » de la*

- a. Pandenassa
- b. Pandanasse
- c. **Pandanassa**

3. *Combien de rues débouchent à la place Monastiraki :*

- a. cinq
- b. **sept**
- c. dix

4. *La place Monastiraki est le coeur de l'ancien quartier :*

- a. grec
- b. romain
- c. **turc**

5. *Le marché aux puces se trouve :*

- a. **entre les rues Adrianou et Ermou**
- b. dans la rue Panepistimiou
- c. sur le boulevard Kifissias

6. *Sur la place Monastiraki on peut trouver :*

- a. seulement des vêtements
- b. **des bijoux, des vêtements et des chaussures**
- c. des meubles

II. Faites correspondre :

1. **place Monastiraki**

2. **marché aux puces**

3. **église de la Dormition de la Vierge**

3	a
2	b
1	c

a. **petit monastère de la Pandanassa**

b. **coeur de l'ancien quartier turc**

c. **entre les rues Adrianou et Ermou**

Le Jardin National et le Zappeion

I. Choisissez la bonne réponse :

1. Où est situé le Jardin national ?

- a. près du Zappeion
- b. près de l'Académie
- c. **près du Palais royal**

2. De qui en est-il oeuvre ?

- a. du roi Georges 1er
- b. du français Bareaud
- c. **de la reine Amalia**

3. Qui a dessiné les plans du Jardin national ?

- a. **Bareaud**
- b. Boulange
- c. Les frères Hansen

4. Qu'est-ce que c'est le Zappeion ?

- a. un grand parc
- b. **un palais des expositions**
- c. une habitation royale

5. Où s'étend-il ?


- a. entre l'Académie et la Bibliothèque
- b. dans le Jardin national
- c. **entre le Jardin national et le temple de Zeus**

6. Par qui a-t-il été financé ?

- a. **les cousins Zappas**
- b. le roi Georges 1er
- c. les frères Hansen



Ajustez le Parthénon



Répondez aux questions et ajustez le Parthénon. Chaque pièce correspond à une différente pièce du temple.

1. *Quelle est l'église sur la colline du Lycabette? HaghiosGeorgios - 4*
2. *Où se trouve la Bibliothèque nationale? Dans la rue Elefériou Vénizélou ou Panepistimiou - 5*
3. *Qui est l'architecte de la Bibliothèque nationale? Theofil Hansen - 2*
4. *Duquel sculpteur sont les statues de Socrate et de Platon situées devant l'Académie? Pikareli - 1*
5. *Qui est l'architecte de l'Université? Hans Christian - 3*

Jeu avec les monuments de l'Athènes antique

Écrivez dans ces cases le numéro auquel correspond la phrase de la colonne de droite :

1. Académie de Platon	12	A	A. Monument funéraire
2. Arc de triomphe	8	B	B. Temple consacré au dieu Héphaïstos
3. Temple de Zeus Olympien	2	C	C. Il a été érigé en l'honneur d'Hadrien
4. Stade Panathénien	17	D	D. Activités commerciales de la Cité à l'époque romaine
5. Quartier des Aérides	1	E	E. Établissement d'enseignement de la philosophie
6. Bibliothèque d'Hadrien	10	F	F. Située entre la colline des Nymphes et celle des Muses
7. Stoa d'Attale	16	G	G. Le plus ancien théâtre de l'Antiquité
8. Théseion	15	H	H. Situé aux abords sud de l'Acropole
9. Ancienne Agora	6	I	I. Vaste quadrilatère entouré d'un péristyle de cent colonnes
10. Colline de la Pnyx	7	J	J. Là s'est tenue la réunion des Présidents des 25 pays membres de l'Europe Unie
11. Monument de Lysicrate	4	K	K. Il a accueilli les premiers Jeux Olympiques modernes
12. Monument de Philopappos	11	L	L. Le seul monument chorégique survivant de la rue Tripodon
13. Aréopage	5	M	M. Tour des Vents ou Horologio d'Andronicos Kyrrestès
14. Acropole	13	N	N. La colline qui fonctionnait comme un tribunal
15. Odéon d'Hérode Atticus	9	O	O. Centre politique et administratifs de l'Athènes antique
16. Théâtre de Dionysos	14	P	P. Le Parthénon, le temple d'Athéna Niké et l'Erechtéion
17. Agora romaine	3	Q	Q. Un des plus grands temples de l'Athènes antique

Jeu avec les monuments de l'Athènes Byzantine, Néoclassique, moderne et a la couleur pittoresque et naturelle

Écrivez dans ces cases le numéro auquel correspond la phrase de la colonne de droite :

1. Académie	6	A	A. Palais des expositions
2. Université	12	B	B. Oasis de verdure et de fraîcheur
3. Bibliothèque nationale	1	C	C. Réplique en marbre du Parlement de Vienne
4. Parlement	10	D	D. Le cœur d'Athènes
5. Tombe du soldat inconnu	15	E	E. Murs extérieurs aux motifs d'inspiration arabe
6. Zappeion	3	F	F. Une véritable place pour ceux qui adorent la lecture
7. Musée Archéologique national	10	G	G. Le point culminant de Plaka
8. Musée d'Art cycladique	7	H	H. Abrite des oeuvres de toutes les civilisations épanouies en Grèce antique
9. Quartier de Plaka	14	I	I. Petite métropole
10. Anafiotika	2	J	J. Est précédée d'une gracieuse fontaine et d'un escalier circulaire
11. Place Monastiraki	8	K	K. On y peut voir 350 objets en terre cuite, marbre ou métal
12. Jardin national	13	L	L. Dédiée à la Présentation de la Vierge
13. Eglise Kapnikarea	4	M	M. Assemblée nationale
14. Eglise Haghios Eleftherios	11	N	N. Cœur de l'ancien quartier turc
15. Eglise Haghii Théodori	5	O	O. Soldats d'élite-evzones